

# LAS MATEMÁTICAS ESTÁN EN PROBLEMAS

# BLOQUE 1

# Esmeralda Te Enseña





# ESMERALDA TE ENSEÑA

## ~ Redes Sociales: ~



**ESMERALDA TE ENSEÑA**

<https://www.youtube.com/EsmeraldaTeEnsena>



**ESMERALDA TE ENSEÑA HISTORIA**

<https://www.youtube.com/@EsmeraldaTeEnsenaHistoria>



**ESMERALDA TE CUENTA UN CUENTO**

<https://www.youtube.com/@Esmeraldatecuentauncuento>



**ESMERALDA TE ENSEÑA CANTANDO**

<https://www.youtube.com/@EsmeraldaTeEnsenaCantando>



**ESMERALDA TE ENSEÑA [@esmeraldateensena]**

<https://www.twitch.tv/esmeraldateensena>



**ESMERALDA TE ENSEÑA [@esmeraldateensena]**

<https://www.instagram.com/esmeraldateensena/>



**ESMERALDA TE ENSEÑA [@esmeraldateensena]**

<https://www.tiktok.com/@esmeraldateensena>



## **Queridos docentes y padres:**

Es un placer dar la bienvenida a este emocionante viaje de aprendizaje matemático junto a sus estudiantes de primer grado. Este cuadernillo: “*LAS MATEMÁTICAS ESTÁN EN PROBLEMAS — Bloque 1 — (Esmeralda Te Enseña)*” está diseñado para brindar una experiencia educativa enriquecedora y divertida, ayudando a los niños a desarrollar una base sólida en habilidades matemáticas. Además, no solo ofrece un enfoque práctico y atractivo para enseñar conceptos fundamentales, sino que también cuenta con vídeos educativos que complementarán la enseñanza y facilitarán la comprensión de los conceptos. Estos recursos visuales ayudarán a los niños a visualizar y aplicar lo que aprenden en las páginas del cuadernillo, haciendo que el aprendizaje sea aún más accesible y entretenido.



## **Queridos estudiantes:**

¡Hoy empieza una gran aventura! Este cuadernillo: “*LAS MATEMÁTICAS ESTÁN EN PROBLEMAS — Bloque 1 — (Esmeralda Te Enseña)*” te llevará a explorar el mundo de las matemáticas una manera divertida y atractiva. Pero eso no es todo, ¡también hemos incluido vídeos educativos especiales que harán que aprender matemáticas sea aún más emocionante! Estos videos te ayudarán a comprender los conceptos de manera clara y entretenida. Así que prepárate para sumergirte en el aprendizaje y descubrir las maravillas de las matemáticas de una manera nueva e interesante.

# Esmeralda Te Enseña

Contenido:	Recurso:
El Viaje Mágico del conteo numeral	Vídeo: <a href="https://youtu.be/L_SpTqR8Luc">https://youtu.be/L_SpTqR8Luc</a> (Aprende a contar y agrupar los números del 0 al 10 Esmeralda Enseña)

1. Observa el vídeo y completa la tabla escribiendo el numero o dibujando la cantidad de estrellas correspondiente:

CANTIDAD	NÚMERO QUE REPRESENTA
	2
	
	6
	
	
	1
	7
	

# Esmeralda Te Enseña

**Contenido:**

El Viaje Mágico del  
conteo numeral






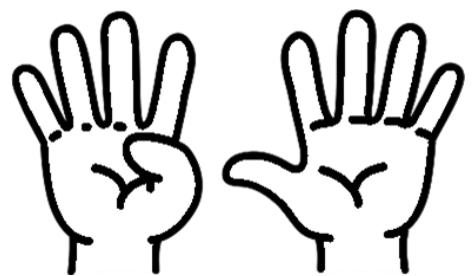
**Recurso:**

Vídeo:

[https://youtu.be/L\\_SpTqR8Luc](https://youtu.be/L_SpTqR8Luc)

(Aprende a contar y agrupar los  
números del 0 al 10 Esmeralda Enseña)

2. Según lo aprendido en el vídeo, escribe abajo el número que  
están representando las manos:

3. Con ayuda completa los espacios en blanco con las palabras  
escuchadas en la canción y ¡canta!:

Vamos todos a \_\_\_\_\_, todos a representar, vamos  
todos a \_\_\_\_\_ números del 0 al \_\_\_\_\_:

0, 1, \_\_\_\_\_, 3, \_\_\_\_\_, \_\_\_\_\_, 6, \_\_\_\_\_, 8, 9, 1 \_\_\_\_\_.

# Esmeralda Te Enseña

## Contenido:











¡Explora el conteo de los números del cero al diez!

## Recurso:

Vídeo:

<https://youtu.be/7nmDFZ-FfA4>  
(Esmeralda te enseña Números del 0 al 10)






1. Observa el vídeo, presta atención, luego sigue la secuencia de números estudiada y escribe los números que faltan:



# Esmeralda Te Enseña

Contenido:	Recurso:
Descubre el Mundo de las Formas	Vídeo: <a href="https://youtu.be/7gC795udDal">https://youtu.be/7gC795udDal</a> (Esmeralda te enseña las figuras geométricas)

1. Observa el video y según lo aprendido: Identifica cada una de las figuras geométricas, sigue las indicaciones del color y completa lo que se te pide:

Colorea las figuras con el color mencionado	Figuras geométricas	Completa
Cuadrado: <b>Rojo</b>		Esta figura geométrica tiene _____ lados
Círculo: <b>Celeste</b>		
Rectángulo: <b>Amarillo</b>		Esta figura geométrica tiene _____ lados
Triángulo: <b>Verde</b>		
		Esta figura geométrica tiene _____ lados
		Esta figura geométrica tiene _____ lados



# Esmeralda Te Enseña

Contenido:	Recurso:
Descubre el Mundo de las Formas	Vídeo: <a href="https://youtu.be/7gC795udDal">https://youtu.be/7gC795udDal</a> (Esmeralda te enseña las figuras geométricas)

2. Pon a prueba los conocimientos adquiridos con el vídeo:  
Escribe dónde puedes encontrar las siguientes figuras:

¿Dónde puedes encontrar un cuadrado?

--	--

¿Dónde puedes encontrar un rectángulo?

--	--

¿Dónde puedes encontrar un triángulo?

--	--

¿Dónde puedes encontrar un círculo?

--	--

3. Sigue la siguiente indicación y colorea lo que dibujes:

<p><b>Dibuja un paisaje con:</b></p> <p>12 triángulos 1 cuadrado 1 círculo 2 rectángulos</p>	
--	--



# Esmeralda Te Enseña

Contenido:	Recurso:
Formas Mágicas con Tangram	Vídeo: <a href="https://youtu.be/rsDnYL ShiQ">https://youtu.be/rsDnYL ShiQ</a> (Esmeralda te enseña El Tangram)

1. Según lo observado en el video y con ayuda de tus padres responde:

## EL TANGRAM

El tangram es un rompecabezas formado por \_\_\_\_\_

El tangram encontrarás:

\_\_\_\_\_ triángulos

\_\_\_\_\_ cuadrados

\_\_\_\_\_ rombo

El tangram es un juego muy antiguo que viene de \_\_\_\_\_

Escribe el nombre de tres figuras que podemos formar con el tangram

\_\_\_\_\_  
\_\_\_\_\_

# Esmeralda Te Enseña

**Contenido:**

Formas Mágicas con  
Tangram

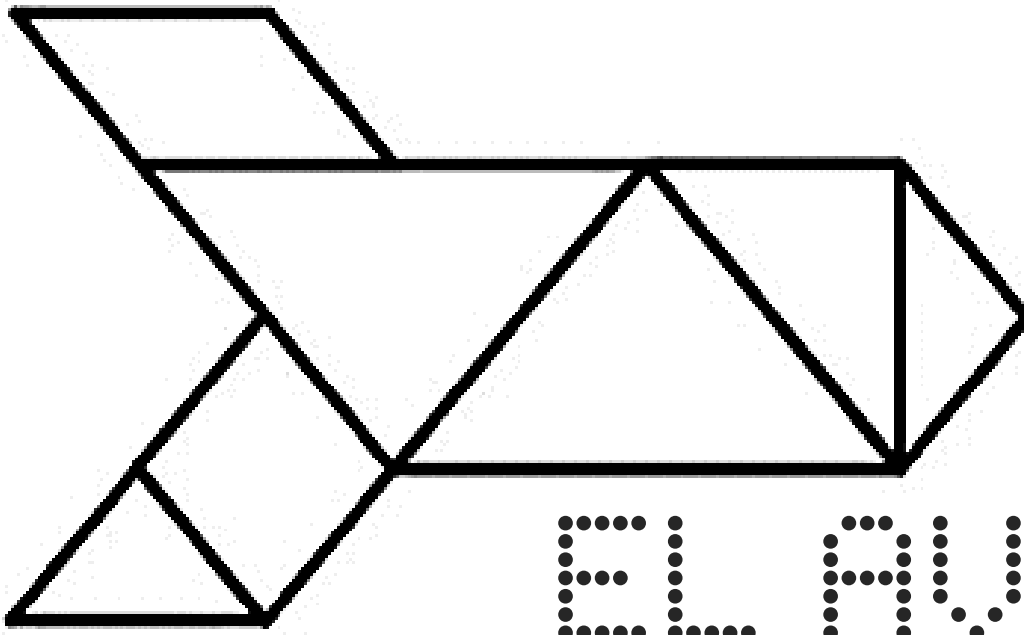
**Recurso:**

Vídeo:

<https://youtu.be/rsDnYL ShiQ>

(Esmeralda te enseña  
El Tangram)

¡COLOREA EL SIGUIENTE TANGRAM!



2. Según el juego observado en el video y con ayuda de tus padres colorea la respuesta correcta:

¡DESCUBRAMOS LAS FIGURAS DEL TANGRAM!

FIGURA 1	CAJA A	CAJA B	CAJA C	CAJA D
FIGURA 2	CAJA A	CAJA B	CAJA C	CAJA D
FIGURA 3	CAJA A	CAJA B	CAJA C	CAJA D
FIGURA 4	CAJA A	CAJA B	CAJA C	CAJA D

# Esmeralda Te Enseña

## Contenido:

¡Explorando y sumando con los Números de un Dígito!

## Recurso:

Vídeo:

<https://youtu.be/FK0htvEGVEw>  
(Esmeralda te enseña Aprendamos a sumar - Parte 1)


1. Según lo aprendido en el vídeo escribe en números el resultado de la siguiente suma, escribe los números que representa cada mano y escribe el nombre de cada símbolo:



--	--	--	--

2. Colorea los números del 1 al 5 de color verde y del 6 al 10 de color naranja:

1	2
3	4
5	6
7	8
9	10



# Esmeralda Te Enseña

**Contenido:**

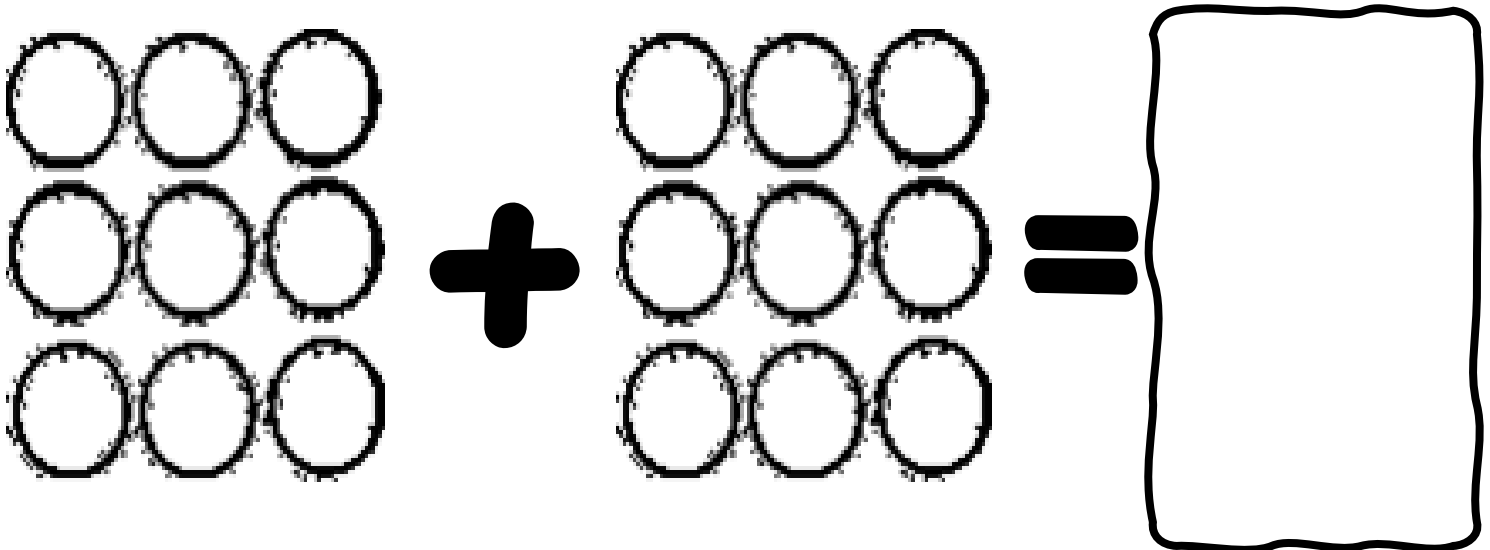
Suma en la Tienda de Juguetes

**Recurso:**

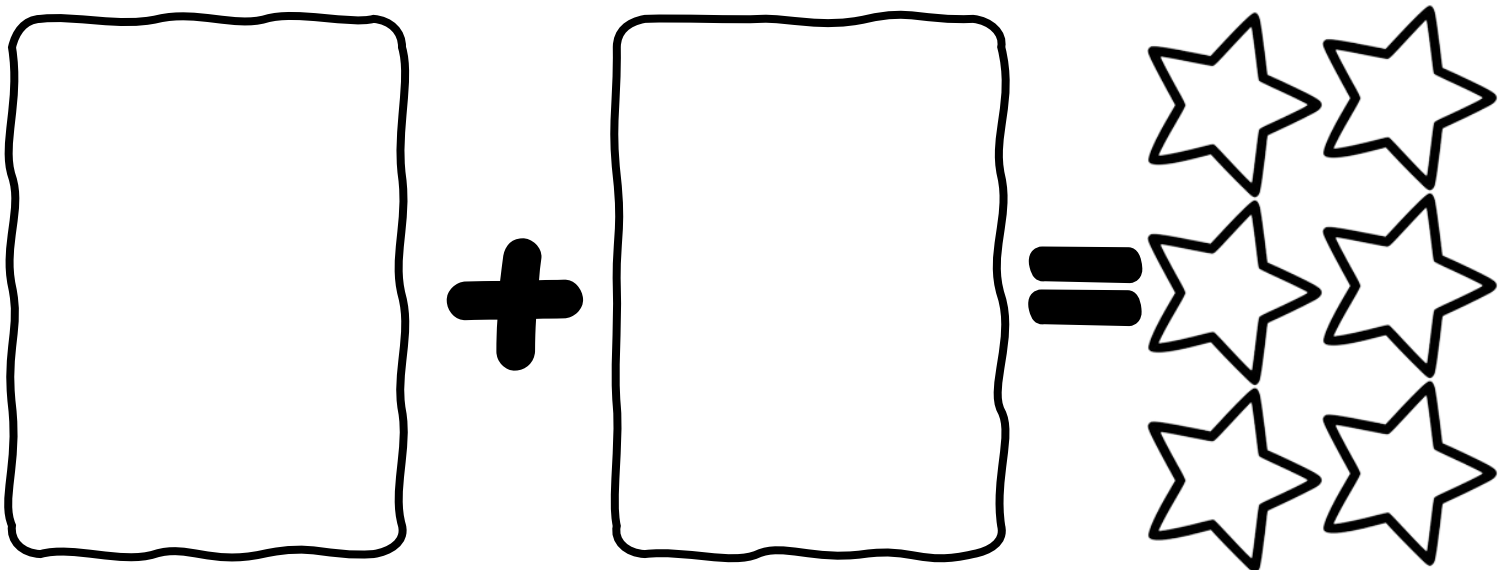
Vídeo:

<https://youtu.be/j2sWtJ9KuiA>  
(Esmeralda te enseña Aprendamos a sumar con objetos)

1. Observa el vídeo y según lo mostrado en la suma 3 colorea la cantidad de pelotas y luego escribe la cantidad total de pelotas coloreadas:



2. Observa el vídeo y según lo mostrado en la suma 4 dibuja la cantidad de estrellas que corresponden en cada sumando:



# Esmeralda Te Enseña

**Contenido:**

**Recurso:**

**El Desafío de las Sumas**

**Vídeo:**







<https://youtu.be/FK0htvEGVEw>

(Esmeralda te enseña  
Aprendamos a Sumar)

**1. Pon a prueba lo aprendido: Sigue las indicaciones y colorea según se te pide:**

Símbolo más: Color rojo	<b>1</b>	<b>+</b>	<b>2</b>	<b>=</b>	<b>3</b>
Símbolo igual: Color azul					
Sumandos: Color amarillo					
Total: Color verde					

**2. Según la explicación dada sobre cómo resolver sumas utilizando tus manos, resuelve las siguiente y escribe el resultado en números:**

	<b>+</b>		<b>=</b>
	<b>+</b>		<b>=</b>
	<b>+</b>		<b>=</b>

# Esmeralda Te Enseña

Contenido:	Recurso:
El Desafío de las Sumas	Vídeo: <a href="https://youtu.be/FK0htvEGVew">https://youtu.be/FK0htvEGVew</a> (Esmeralda te enseña Aprendamos a Sumar)

3. Según el juego realizado, escribe la suma mostrada que da los siguientes resultados:

+	=	4
+	=	5
+	=	8
+	=	8
+	=	9
+	=	9
+	=	10

# Esmeralda Te Enseña

**Contenido:**

**¡Explora el Viaje en el  
Tiempo a través del  
Calendario!**

**Recurso:**


**Vídeo:**

<https://youtu.be/4j02cM5pbjY>

**(Esmeralda te enseña  
El Calendario)**

**1. Escucha el video y contesta esta guía correctamente con  
apoyo de tu responsable**

¿Qué es y para qué sirve un calendario?

Escribe los días de la semana que son para laborar y estudiar

--

--

--

--

--

Escribe los días de la semana que son para descansar

--

--



# Esmeralda Te Enseña

**Contenido:**

**¡Explora el Viaje en el  
Tiempo a través del  
Calendario!**

**Recurso:**

**Vídeo:**  
<https://youtu.be/4j02cM5pbjY>  
**(Esmeralda te enseña  
El Calendario)**

Escribe los meses del año


## 2. Responde según lo aprendido en el vídeo

¿Cuántas horas tiene un día?

¿Cuántos días tiene una semana?

¿Cuántos días tiene un mes?

¿Cuál es el mes que tiene 28 o 29 días?

¿Cuántos días tiene un año?

# Esmeralda Te Enseña

Contenido:	Recurso:
Descubriendo el Camino de los Números: Del 1 al 25	Vídeo: <a href="https://youtu.be/SewiDIS11Yk">https://youtu.be/SewiDIS11Yk</a> (Esmeralda te enseña Escribe números por su nombre)

1. Según lo aprendido en el vídeo, completa la siguiente tabla:

		<b>15</b>
Siete	Dos	
<b>4</b>	<b>22</b>	
		Diez
	<b>25</b>	
Veinte		Trece

2. Completa los espacios en blanco con las palabras escuchadas en la canción:

Debes poner atención a los _____ a continuación:	
Dieci viene del _____	Vein viene del _____

# Esmeralda Te Enseña

Contenido:	Recurso:
Rumbo a Nuevos Números: Del 26 al 50	Vídeo: <a href="https://youtu.be/SewiDIS11Yk">https://youtu.be/SewiDIS11Yk</a> (Esmeralda te enseña Escribe números por su nombre)

1. Según lo aprendido en el vídeo, completa la siguiente tabla:

<b>46</b>	<b>45</b>	
		Cincuenta
		<b>38</b>
Treinta	Veintiocho	
<b>32</b>		<b>26</b>
	Cuarenta	

2. Completa los espacios en blanco con las palabras escuchadas en la canción:

Debes primero reconocer números de diez en diez: Diez,  
\_\_\_\_\_, \_\_\_\_\_, \_\_\_\_\_, cincuenta.

Trein viene del \_\_\_\_\_ del cuarenta

# Esmeralda Te Enseña

Contenido:	Recurso:
Superhéroes Numéricos de Dos Dígitos	Vídeo: <a href="https://youtu.be/IUUihvo7v5Y">https://youtu.be/IUUihvo7v5Y</a> (Aprende a sumar con dos dígitos Esmeralda Te Enseña)

1. Observa el vídeo y pon a prueba los conocimientos adquiridos: Escribe las partes de la suma:

**10 + 10 = 20**

2. Escribe un ejemplo de suma horizontal y un ejemplo de suma vertical y resuélvelas:

<b>SUMA VERTICAL</b>			<b>SUMA HORIZONTAL</b>
--------------------------	--	--	----------------------------

# Esmeralda Te Enseña

**Contenido:**

**Superhéroes Numéricos  
de Dos Dígitos**

**Recurso:**

**Vídeo:**

<https://youtu.be/IUUihvo7v5Y>  
(Aprende a sumar con dos dígitos  
Esmeralda Te Enseña)

3. Según el método para sumar explicado en el vídeo, resuelve las siguientes sumas:

## Sumas en vertical

	4	5
+	3	1
=		

	2	5
+	7	3
=		

	4	5
+		7
=		

	8	0
+	1	9
=		

## Sumas en horizontal

55	+	30	=	
41	+	45	=	
67	+	21	=	

# LAS MATEMÁTICAS ESTÁN EN PROBLEMAS



Esmeralda Te Enseña